



UNIVERSIDADES PÚBLICAS DE LA COMUNIDAD DE MADRID
EVALUACIÓN PARA EL ACCESO A LAS ENSEÑANZAS
UNIVERSITARIAS OFICIALES DE GRADO

Curso 2016-2017

MATERIA: GEOGRAFÍA

INSTRUCCIONES GENERALES Y CALIFICACIÓN

Después de leer atentamente todas las preguntas, el alumno deberá escoger **una** de las dos opciones propuestas y responder a las cuestiones de la opción elegida.

CALIFICACIÓN: El valor de las preguntas se asigna al final de su enunciado. **TIEMPO:** 90 minutos.

OPCIÓN A

1ª Parte

Defina, en el cuadernillo adjunto, **seis** de los siguientes términos o conceptos geográficos, utilizando como máximo una cara del cuadernillo:

Censo de Población, Área periurbana, Paisaje natural, Cerro testigo, Industria pesada, Plano ortogonal, C.E.C.A, Cono volcánico.

Puntuación máxima: 1,5 Puntos.

2ª Parte

Tema: “**Los climas de España**”.

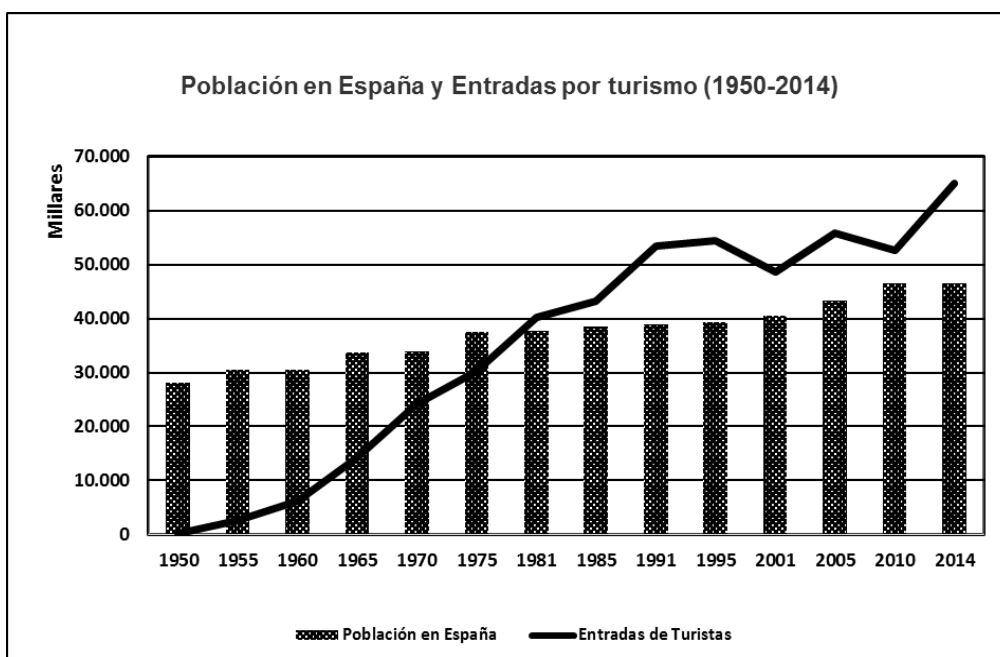
Desarrolle, de manera sintética, el tema propuesto (utilice, como máximo, ambas caras de un folio). Como indicativos se señalan los siguientes epígrafes:

- Tipos climas en España.
- Localización geográfica.
- Características principales de cada uno de ellos.

Puntuación máxima: 4 Puntos.

3ª Parte

Comentario del gráfico: Realice un comentario del siguiente gráfico y explique las razones de la evolución que presenta.

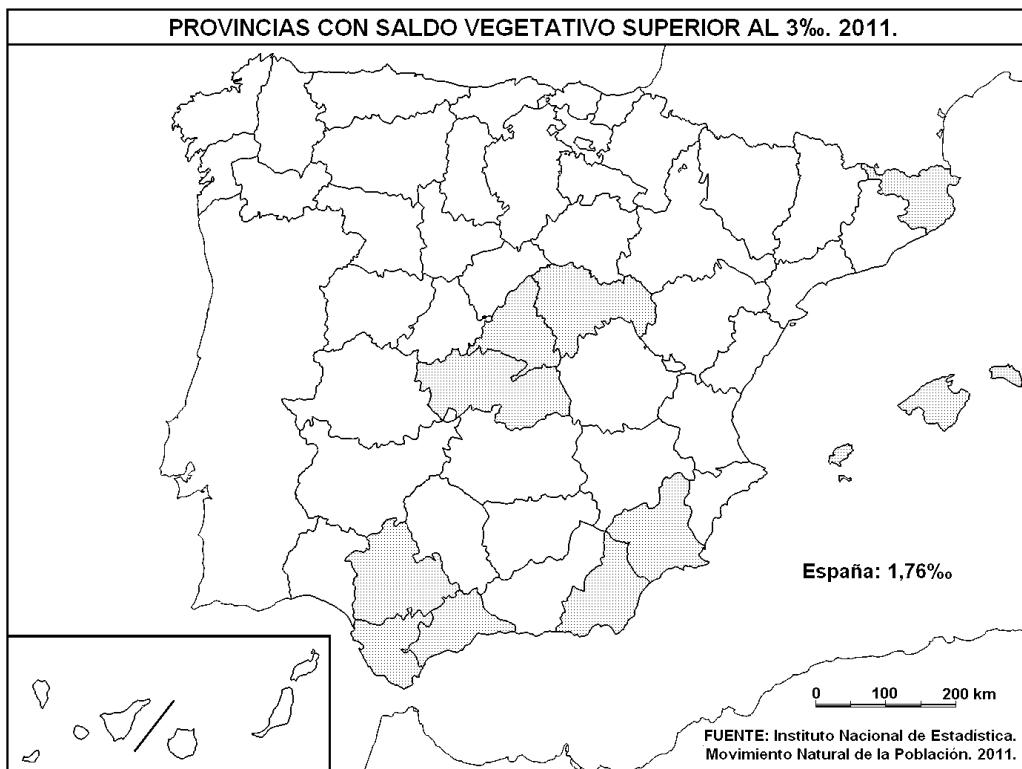


FUENTE: Instituto Estudios Turísticos. 2015.

Puntuación máxima: 2,5 puntos.

4ª Parte

A la vista del mapa adjunto, **“Provincias con saldo vegetativo superior al 3‰”**, indique el nombre de las provincias tramadas pertenecientes a dicha categoría y señale las razones que explican esta distribución.



Puntuación máxima 2 puntos

OPCIÓN B

1ª Parte

Defina, en el cuadernillo adjunto, **seis** de los siguientes términos o conceptos geográficos, utilizando como máximo una cara del cuadernillo:

Índice de Desarrollo Humano, Lago glaciar, Agricultura de mercado, Efecto invernadero, Arrabales, Morbilidad, Penillanura, Relieve kárstico.

Puntuación máxima: 1,5 puntos

2ª Parte

Tema: **“Los movimientos migratorios en España”.**

Desarrolle, de manera sintética, el tema propuesto (utilice, como máximo, ambas caras de un folio). Como indicativos se señalan los siguientes aspectos:

- Evolución histórica.
- Tipos de movimientos migratorios
- Causas y Consecuencias

Puntuación máxima: 4 puntos

3ª Parte

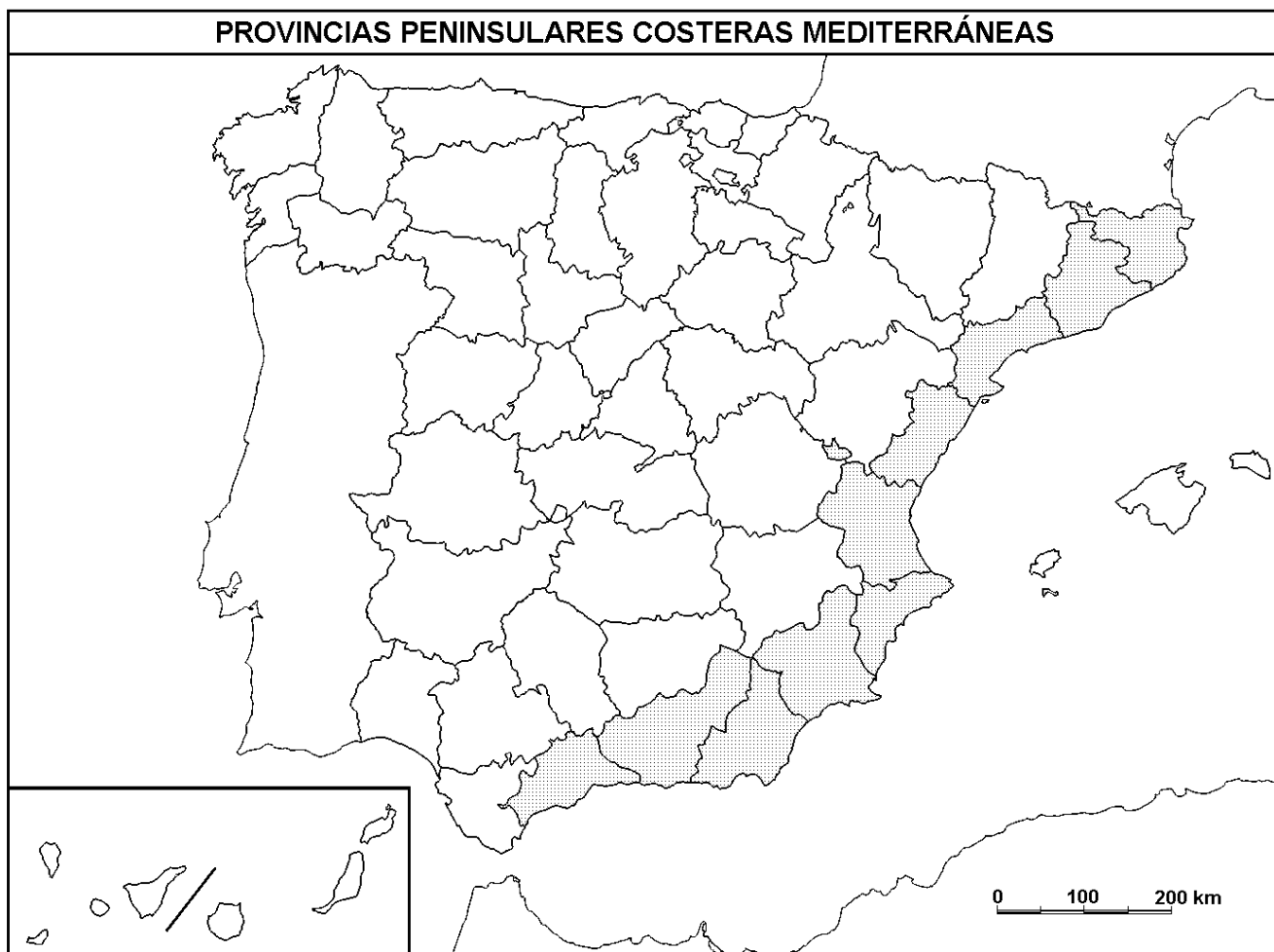
Comentario de la fotografía adjunta: Comente el paisaje de la lámina adjunta, atendiendo, al menos, a:

- Las unidades del paisaje
- Los usos del suelo.
- Las manifestaciones espaciales de las actividades económicas y del poblamiento.

Puntuación máxima: 2,5 puntos

4ª Parte:

A la vista del mapa adjunto, “**Provincias peninsulares costeras mediterráneas**” indique el nombre de cada una de ellas. Comente sus características climáticas y principales actividades económicas.



Puntuación máxima: 2 puntos.

