



UNIVERSIDADES PÚBLICAS DE LA COMUNIDAD DE MADRID
PRUEBA DE ACCESO A LAS ENSEÑANZAS UNIVERSITARIAS
OFICIALES DE GRADO
Curso **2015-2016**
MATERIA: GEOGRAFÍA

INSTRUCCIONES GENERALES Y CALIFICACIÓN

Después de leer atentamente todas las preguntas, el alumno deberá escoger **una** de las dos opciones propuestas y responder a las cuestiones de la opción elegida.

CALIFICACIÓN: La parte 1ª se valorará sobre 1,5 puntos, la parte 2ª sobre 4 puntos, la parte 3ª sobre 2,5 puntos, la parte 4ª sobre 2 puntos.

TIEMPO: 90 minutos.

OPCIÓN A

1ª Parte

Defina, en el cuadernillo adjunto, **seis** de los siguientes términos o conceptos geográficos, utilizando como máximo una cara del cuadernillo:

Parque tecnológico, Acuicultura, Curva de nivel, Xerófilo, Equinoccio, Globalización, Relieve kárstico, Tasa de mortalidad infantil.

Puntuación máxima: 1,5 Puntos.

2ª Parte Tema: Los paisajes agropecuarios españoles.

Desarrolle, de manera sintética, el tema propuesto (utilice, como máximo, ambas caras de un folio). Como indicativos se señalan los siguientes epígrafes:

- Factores físicos y humanos que los condicionan.
- Localización de los mismos.
- Principales tipos de paisajes y cultivos.

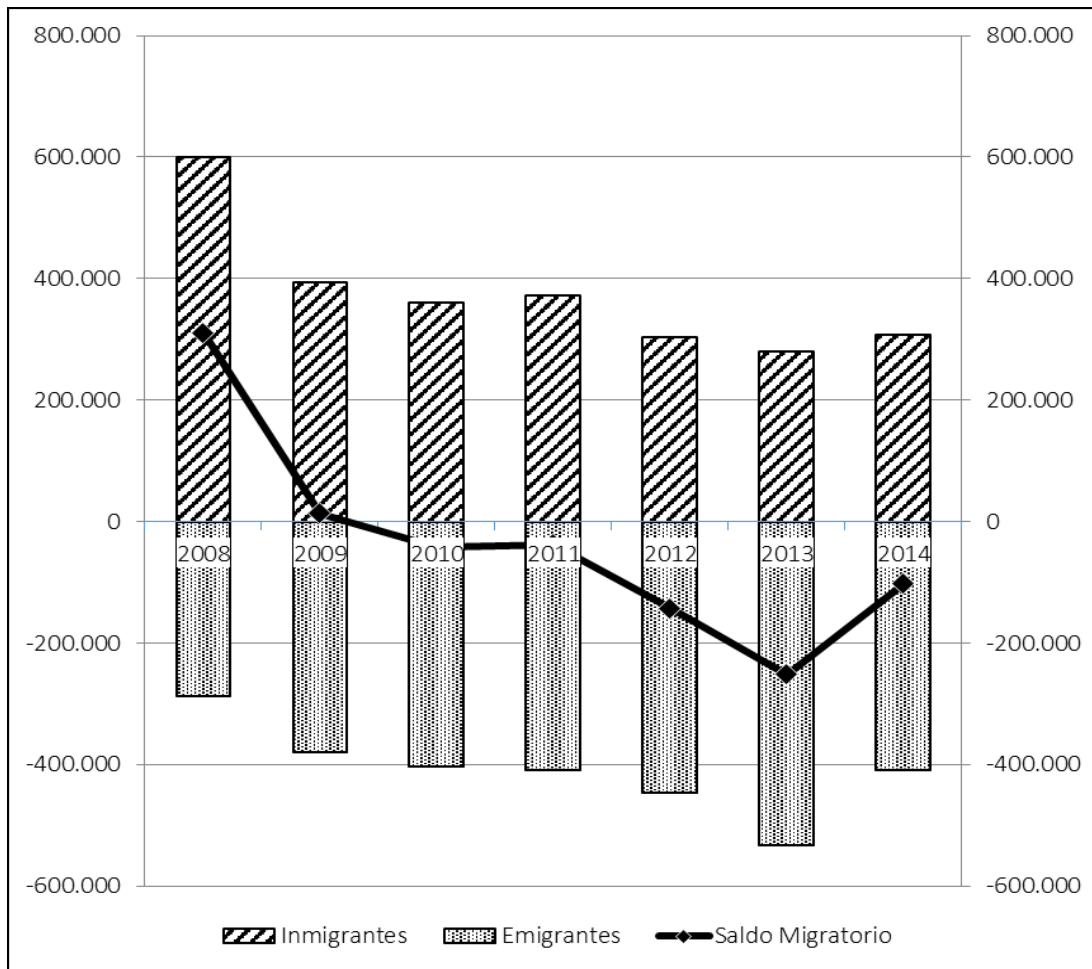
Puntuación máxima: 4 Puntos.

3ª Parte

Comentario del gráfico: Realice un comentario del presente gráfico “**Migraciones exteriores en España: inmigrantes, emigrantes y saldo desde 2008 a 2014**”. Explique las razones de las variaciones que se producen en dicho periodo, y, señale algunas consecuencias.

Puntuación máxima: 2,5 puntos.

“Migraciones exteriores en España: inmigrantes, emigrantes y saldo desde 2008 a 2014”

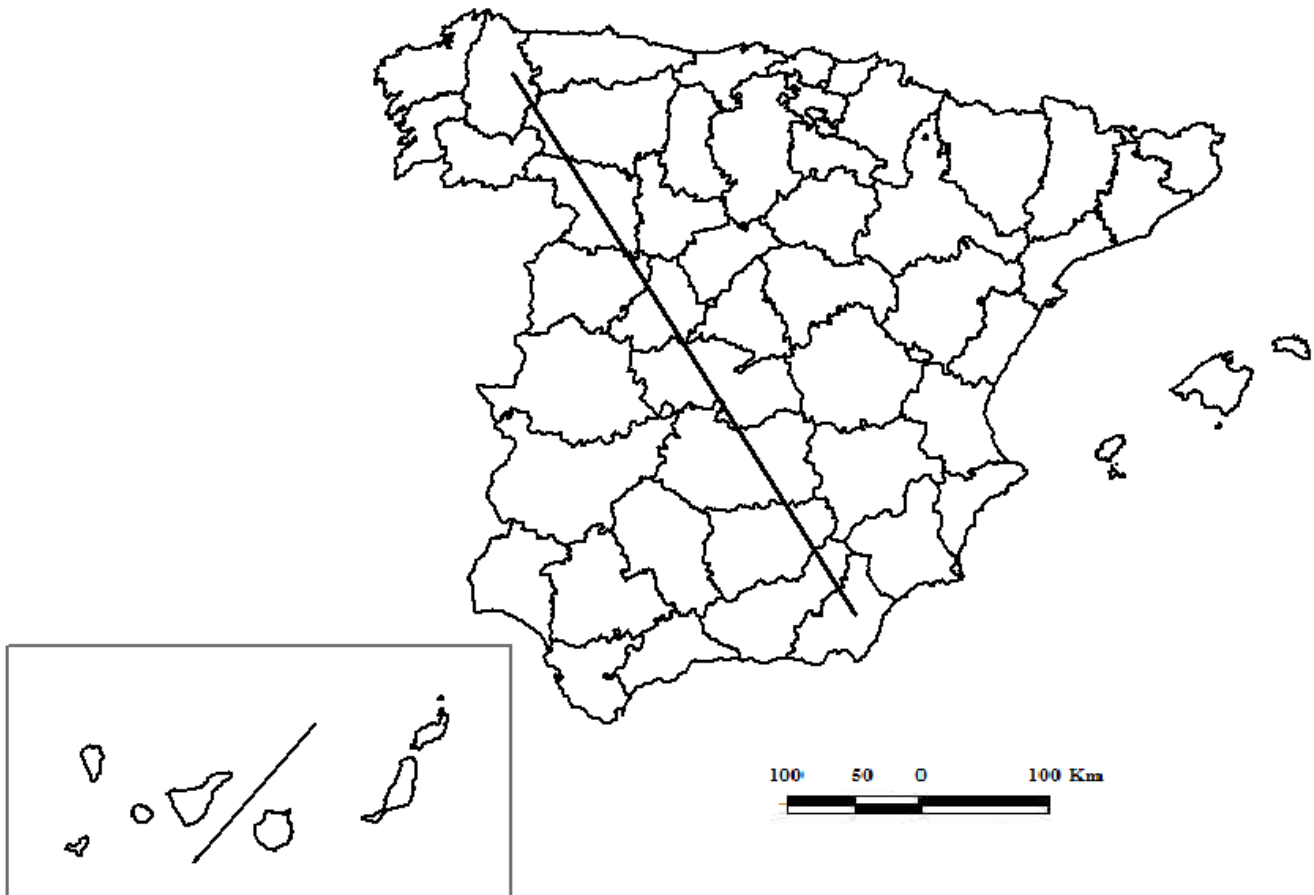


FUENTE INE 2014

4ª Parte

A la vista del mapa adjunto, “*Transecto NW – SE*”, indique el nombre de las provincias atravesadas por el mismo y comente las grandes unidades de relieve por las que discurre.

Puntuación máxima 2 puntos



OPCIÓN B

1ª Parte

Defina, en el cuadernillo adjunto, **seis** de los siguientes términos o conceptos geográficos, utilizando como máximo una cara del cuadernillo:

Zócalo, Acuífero, Openfield, Caladero, Maquia, Tierra cultivable, Isotherma, Renta per cápita.

Puntuación máxima: 1,5 puntos

2ª Parte Tema: El agua en España.

Desarrolle, de manera sintética, el tema propuesto (utilice, como máximo, ambas caras de un folio), atendiendo al menos a los siguientes aspectos:

- Vertientes y cuencas hidrográficas.
- Principales ríos y características de sus cuencas fluviales.
- Aprovechamiento de los ríos en las actividades humanas

Puntuación máxima: 4 puntos

3ª Parte

Comentario de la fotografía adjunta: Comente el paisaje de la lámina adjunta, atendiendo, al menos, a: a) Unidades del paisaje; b) Los usos del suelo; c) Manifestaciones espaciales de las actividades económicas y del poblamiento.

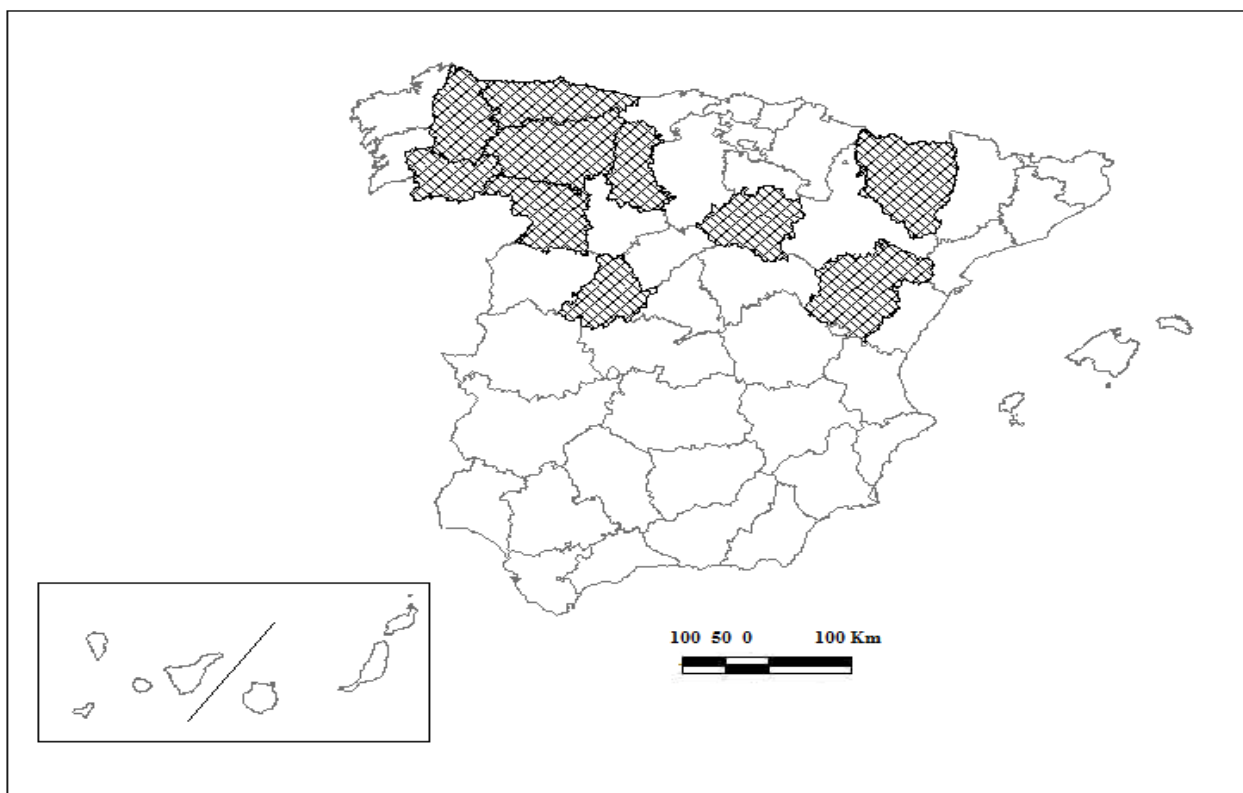
Puntuación máxima: 2,5 puntos

4ª Parte:

A la vista del mapa adjunto, **“Provincias con una Tasa Bruta de Mortalidad superior al 11 por mil” en el año 2014, (media nacional 8,46 por mil);** indique el nombre de las provincias tramadas pertenecientes a dicha categoría; señale las razones que explican esta distribución y comente algunas consecuencias emanadas de este hecho.

Puntuación máxima: 2 puntos.

Mapa de las provincias con una tasa de mortalidad superior al 11 por mil en el año 2014



FUENTE: INEBASE.

